

Број поена



ШИФРА _____

КОМИСИЈА _____

ТЕСТ ЗНАЊА

ЗА VI РАЗРЕД ОСНОВНЕ ШКОЛЕ ИСТОРИЈА

ОПШТИНСКО ТАКМИЧЕЊЕ
2019. године

УПУТСТВО ЗА РАД

1. Свако питање пажљиво прочитај да би га потпуно разумео.
2. Ако неко питање не можеш одмах да решиш, не губи време већ пређи на следеће, а касније се врати решавању прескоченог питања.
3. Потруди се да на свако питање одговориш тачно и потпуно.
4. Питања ради самостално и не ометај друге ученике.
5. Израда теста траје 60 минута.
6. Тест садржи петнаест питања.
7. Употреба мобилног телефона је забрањена.
8. Писање личних података или било чега другог на тесту је забрањено.

Тест обавезно попуни хемијском оловком, јер се у противном одговори неће признати!

ШЕСТИ РАЗРЕД ОПШТИНСКО ТАКМИЧЕЊЕ 2019.

1. Пажљиво прочитај објашњење и упиши на који се појам објашњење односи.

1. Удружење занатлија исте струке. _____
2. Скуп факултета. _____
3. Српска област у раном средње веку од Бојане до Котора. _____
4. Мисионари из Солуна у Велико Моравској у IX века. _____

2. Наведене догађаје уредите по хронолошком реду:
(бројем 1 означи догађај који се први догодио)

- _____ настанак Источног Римског Царства
- _____ битка код Беласице
- _____ Манојло Комнин постаје сениор српском великом жупану
- _____ Млечани освајају у Цариград
- _____ свадба Јустинијана и Теодоре

3. Заокружите Т ако је исказ тачан, а Н ако је исказ нетачан

- а) Тирилица је прво словенско писмо.
- б) Јеретици су верници православне вере.
- в) Франци су задржали продор Арабљана у Западну Европу.
- г) Готика је настала у XII веку.

| | |
|---|---|
| Т | Н |
| Т | Н |
| Т | Н |
| Т | Н |

4. Од понуђених народа на линији напиши оне који су после Словена дошли на Балкан.

Грци, Илири, Трачани, Мађари, Келти, Бугари, Хуни

5. Од понуђених комбинација одабери једну која је хронолошки тачна, заокружи број испред тачног одговора.

1. Владавина Уроша I – владавина Милутина – владавина Драгутина.
2. Владавина Милутина – владавина Уроша I – владавина Драгутина.
3. Владавина Уроша I – владавина Драгутина – владавина Милутина.
4. Владавина Милутина – владавина Драгутина – владавина Уроша I.

6. Поред догађаја упиши годину:

- а) _____ Смрт Карла Великог.
- б) _____ Почетак владавине цара Јустинијана.
- в) _____ Душанови крунисање за цара.



7. Повежи личности које су савременици догађаја. Број испред имена личности упиши на линију испред догађаја.

1. Фридрих Барбароса
 2. Стефан Немањић
 3. папа Урбан
- а) _____ Први крсташки рат
 - б) _____ Трећи крсташки рат
 - в) _____ Четврти крсташки рат

ШЕСТИ РАЗРЕД ОПШТИНСКО ТАКМИЧЕЊЕ 2019.

8. Пажљиво погледај слике манастира и одговори на питања.

- а) Који је манастир на слици?
- б) Ко је ктитор манастира?
- в) Коју је титулу-е носио отац ктитора?



1. а) _____
 б) _____
 в) _____

2. а) _____
 б) _____
 в) _____

9. Пажљиво прочитај тврдње и издвој оне које се односе на исламску веру. Заокружи само број испред тврдњи које се односе на исламску веру.

1. Прва једнобожачка вера.
2. Јахве је бог исламске вере.
3. Калиф је њен верски поглавар .
4. Куран је света књига муслимана.
5. Зидови верских објеката су украшени ликовима људи.

10. Поред имена владара напиши којом је српском облашћу владао у раном средњем веку.

1. Бан Кулин а) _____
2. Часлав Клонирировић б) _____
3. Михаило Војислављевић в) _____

11. Попуни табелу сврставајући понуђене појмове:

игуман, пронија, тема, олтар, епископија, арабеска, кмет, кефалија

| религија/црква | држава/друштво |
|----------------|----------------|
| | |
| | |
| | |

ШЕСТИ РАЗРЕД ОПШТИНСКО ТАКМИЧЕЊЕ 2019.

12. Попуни табелу:


| Владар | Држава- народ | Век владавине |
|---------|---------------|---------------|
| Симеон | | |
| Самуило | | |
| Атила | | |

13. Пажљиво прочитај објашњење и упиши на који се појам објашњење односи.

1. Правна исправа којом се додељује посед или достојанство. _____
2. Институција која чува писану баштину. _____
3. Сlike осликане на свежем малтеру. _____
4. Књижевна врста која описује живот светаца. _____


14. Пажљиво погледај слике које су симболи вере и одговори на питања:

1. Којој вери симбол припада?
2. Како се зову верници који исповедају ту веру?
3. Како се назива грађевина у којој исповедају веру?

А) 

| |
|----------|
| 1. _____ |
| 2. _____ |
| 3. _____ |

 Б)

Б) 

| |
|----------|
| 1. _____ |
| 2. _____ |
| 3. _____ |

15. Попуни табелу тако што ћеш поред дате године уписати догађај који се односи на историју религије.

| Година | Догађај |
|--------|---------|
| 313. | |
| 622. | |
| 1054. | |